

S.H.I.P.S.
[A Premier Institution]



Home Assignment
2024-25
Grade-III

Name: _____

Section: _____ Roll. No. _____

Note:

1. Assignment Marks will be added in the Terminal Assessment.
2. Parents are required to let their child do his/her assignments on his/her own.
3. Use loose sheets if required to perform the task.
4. Best Assignment of the year will be recognised.

‘Summer Vacation weaves a magic wand over the little world of our kids, everything softer and more beautiful.’

So, Hello Summer!!

The seven Golden Commandments for an exemplary Summer Vacation [to be followed by Parents Ward Duo].

a) What about Dining Together? A family that dines together, stays happy forever.

Feasting together with your ward atleast twice a day will strengthen bonds between you and your ward. They will share with you their innermost desires, once you start this process.

b) Teaching them Dignity of Labour: Asking your ward to engage in household chores like cleaning their dishes after meals, assisting maids and house servants, or gardeners or assisting you in cooking and serving food.

c) Visit to Orphanages: Instead of visiting malls, which promotes pseudo culture, allow your kids to visit orphanages so that they connect with the lesser fortunate, learn about their plight. Only by seeing the downtrodden, first hand, can they develop ‘Empathy’.

d) Kinship with Mother Nature:- In order to develop affinity and accordance with nature, let the kids work in their kitchen garden, let them plant a sapling or a seed in medium sized pot on the first day of summer break. Ask them to nurture it throughout the holiday and to carry to school with their name tags on 11 July, 2018. This sapling will be nurtured by your ward in the school for the next few years. This way they will learn the value of ‘caring’ and also appreciate all that you do for them.

e) Shun the Indoor Era: Let them gel with rustic, invigorating natural environment. Let them steer clear of indoor culture which has made them slothful. Let them get dirty, let them bask in natural sunshine, prohibit air conditioners for them.

As Emerson said, “Live in the sunshine, swim the sea, drink the wild air.”

Let your kids be adventurous, wild. Let them be **REAL KIDS FOR A CHANGE.**

f) Sow in them seeds of Philanthropy and Good Humanitarianism: Allow them to donate their old, unused stuff to the needy. Teach them to be generous. Let them donate with their own hands, their discarded clothes, stationery, bags, books, bottles, tiffin boxes etc.

So Dear Parents,

LET HOLIDAY MODE BE ACTIVATED

Holidays are a perfect time to reflect on our blessings and seek out ways to make life better for those around us.

May Your Days be Merry and Bright

Hope You Enjoy a Blissful Bonding with Your Ward.

LET THE MEMORIES OF HOLIDAYS LAST FOREVER

ENGLISH

A. Match.

- | | |
|--------------------------------|-------------------------|
| 1. They played in the park | a. magnificently. |
| 2. She danced | b. happily. |
| 3. The students wrote the exam | c. sadly. |
| 4. The driver drove | d. seriously. |
| 5. He shook his head | e. carefully. |

B. Complete. Use the adverb form of the adjectives given in the brackets.

1. The mouse sneaked through the door. (**quiet**)
2. The cat slept on the windowsill. (**peaceful**)
3. Amira patted the puppy (**gentle**)
4. Jack sings in the school choir. (**beautiful**)
5. She spoke to avoid waking up her baby brother. (**soft**)
6. He walked and missed the bus. (**slow**)

C. How often do you do these things during vacation? Use adverbs of frequency.

During my vacation, I ...

- | | |
|-------------------------------|-------|
| 1. go out of town. | |
| 2. spend time with my family. | |
| 3. play in the park. | |
| 4. have a party. | |
| 5. meet my friends. | |

Reading - Drop Everything And Read

- Link - <https://lilylibrary.com>

Read any one book from the given link and write 150 words about that book on loose sheets (you can draw any character also).

Listening - 'Listen & answer'

Pg. no. 42 - 45 from Burlington software and Complete the worksheet related to the same. (Worksheet

attached)

Speaking- "Gratitude across Borders"

- <https://youtu.be/BE2TibdWMC0?feature=shared>

Read it aloud, practice it until you feel confident, and then record yourself reciting the poem. You can use your phone, tablet, or any other recording device. Be sure to speak clearly and with expression.

Writing- "Expression Series"

Write a Paragraph (150 words)

Or make a Painting on the following topics(anyone)

-My experience at Mela/Haat in my
village/town /city.


Or

-I learn things when I play.

Important Notes:

- Handwriting should be neat and clean.
- The video of the speaking task should be of 1 min
- Writing and listening tasks to be done on loose sheets.

1. नीचे लिखे वर्णों में से स्वर 3 **HINDI** न चुनकर अलग-अलग लिखिए।



स्वर

व्यंजन

.....

.....

.....

.....

.....

.....

.....

.....

2. व या ब लिखकर शब्द पूरा कीजिए।

(क)करी

(ख) ना.....

(ग)न

(घ)तख

(ङ)लटी

(च) दर.....जा

3. क्ष, त्र, ज्ञ और श्र वाले दो-दो शब्द लिखिए।

(क) क्ष =

(ख) त्र =

(ग) ज्ञ =

(घ) श्र =

4. 'श' या 'स' लिखकर शब्द पूरे कीजिए।

(क) शी.....

(ख)ड़क

(ग)रबत

(घ)पेरा

(ङ)लगम

(च)ीटी

(छ)रगम

(ज)ब्जियाँ

(झ)रीफा

5. चित्र का नाम बोलो। चित्र के नाम को ड या ढ लगाकर पूरा कीजिए।



रब.....



पे.....



स.....क



सी.....ी



गु.....या



ब.....ई



चू.....याँ



बा.....

6. नीचे लिखे शब्दों में से स्त्रीलिंग और पुल्लिंग शब्दों को चुनकर अलग-अलग कॉलम में लिखिए।

राजा मालिन बैल गुड्डा नागिन दादा माता

मुरगी बछड़ा गाय पिता मोरनी

स्त्रीलिंग

पुल्लिंग

स्त्रीलिंग

पुल्लिंग

7. नीचे लिखे वाक्यों में लाल रंग वाले शब्दों के वचन बदलकर वाक्य दुबारा लिखिए।

(क) घोड़ा बहुत तेज़ दौड़ता है।

(ख) बकरी पत्ते खा रही है।

(ग) मेज़ पर किताब रखी है।

8. खाली स्थानों में सही संज्ञा शब्द भरिए—

(क) मेरी अलमारी में है।

(ख) शानू ने कल दो खाए।

(ग) बगीचे में खिले हैं।

(घ) पेड़ पर बैठी है।



- 9 उलटे अर्थ वाले शब्दों का प्रयोग करके खाली स्थान भरिए—

क. सूरज दिन में आता है और चाँद को।

ख. आम मीठा होता है लेकिन नीम होता है।

ग. चाँद एक होता है मगर तारे होते हैं।

घ. पेड़ की कुछ पत्तियाँ ताजी हैं मगर बाकी गई हैं।

ङ. मुझे सरदी अधिक लगती है मगर मेरी बहन को अधिक लगती है।

10 (1) चित्रों के नाम लिखकर वाक्य पूरे कीजिए।

- (क) आसमान में चमक रहा है।
 (ख) सवारी के काम आता है।
 (ग) को जंगल का राजा कहते हैं।
 (घ) यह उधर रख दो।
 (ङ) मिट्टी के बरतन बनाता है।
 (च) बिल्ली को देखते ही बिल में घुस गया।



(11) नाम लिखिए।

- (क) अपना नाम
 (ख) अपनी माँ का नाम
 (ग) पिताजी का नाम
 (घ) भाई या बहन का नाम
 (ङ) स्कूल का नाम
 (च) दोस्त या सहेली का नाम
 (छ) कक्षा अध्यापिका का नाम
 (ज) मनपसंद खाने की चीज़ का नाम

11 'र' में उ या ऊ की मात्रा लगाकर शब्द पूरे कीजिए।

- (क) र...ई (ख) अमर...द (ग) र...पया
 (घ) र...कना (ङ) र...माल (च) गुर...

12 (ँ) या (ं) लगाकर शब्द पूरे कीजिए।

- (क) अगूर (ख) पखा (ग) साप
 (घ) दात (ङ) आख (च) बेदर
 (छ) ऊट (ज) खभा (झ) डडा
 (ट) चाद (ठ) मदिर (ड) तागा

13 सही स्थान पर 'ऋ' की मात्रा लगाकर शब्द पूरे कीजिए।

- (क) वक्ष (ख) पथ्वी (ग) मग
 (घ) नत्य (ङ) गह (च) कत्य

चालाक लोमड़ी

टुकड़ा, कौआ, उसे, डाल, पानी, चोंच, लोमड़ी, युक्ति/तरकीब, गाते, कौए, सुनाओ, गाना, हो गया, गाने, गिर, काँव-काँव, गया, पनीर

एक था। उसे पनीर का एक
मिला। वह पेड़ की पर बैठकर खाने की सोच
रहा था। तभी वहाँ आई। कौए की
..... में पनीर देखकर उसके मुँह में
आ गया। पनीर लेने के लिए उसने एक सोची।



लोमड़ी बोली, “..... भाई, सुना है तुम बड़ा मीठा
..... हो। ज़रा हमें भी
.....।”



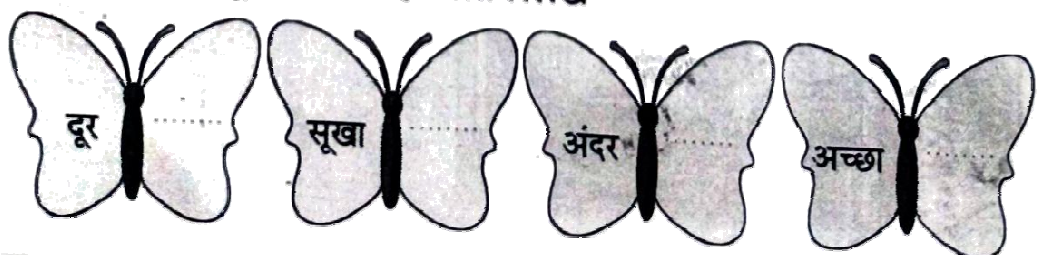
..... की बात सुनकर खुश
.....। उसने गाना के
लिए जैसे ही खोली, का
..... नीचे पड़ा।



लोमड़ी, मुसकराई और का
उठाकर चली गई। कौआ करता
रह।



1. आओ तितली के दूसरे पंख में सही विलोम लिखें—



12. गद्यांश को पढ़कर प्रश्नों के उत्तर दीजिए :

मोर का नृत्य बड़ा ही मनमोहक होता है। जब बरसात के मौसम में आकाश के काले-काले बादल छा जाते हैं, तो मोर अपने पंख फैलाकर मस्त होकर नाचने लगता है। किंतु नाचते-नाचते उसकी दृष्टि जैसे ही अपने पाँव पर पड़ती है वैसे ही उसका नृत्य समाप्त हो जाता है, क्योंकि उसके पाँव दिखने में कुरूप होते हैं।

मोर के पंख से मुकुट बनते हैं। श्रीकृष्ण भी अपने मुकुट पर मोर पंख लगाते थे। शरद ऋतु में मोर के पंख गिर जाते हैं, जिन्हें लोग एकत्रित कर लेते हैं। फिर वसंत ऋतु आने पर उसके नए पंख निकल आते हैं। मोर साँपों का शत्रु है। जहाँ मोर होता है, वहाँ साँप नहीं होते हैं। सचमुच मोर उपयोगी और सुंदर पक्षी है।

दिए गए प्रश्नों के उत्तर लिखिए—

(क) भारत में राष्ट्रीय पशु के रूप में किसे स्वीकार किया गया है?

.....

(ख) मोर के पंख किस रंग के होते हैं और उन पर क्या बना होता है?

.....

(ग) मोर नाचना कब शुरू करता है?

.....

(घ) श्रीकृष्ण अपने मुकुट पर क्या लगाते थे?

.....

(ङ) किस ऋतु में मोर के पंख गिर जाते हैं?

.....

वाक्य बनाओ :-

मुकुट -

शत्रु -

मोर -

1 दिए गए अपठित गद्यांश को पढ़कर प्रश्नों के उत्तर दीजिए—

13 पानी केवल मछलियों का ही नहीं, बल्कि सभी प्राणियों का जीवनाधार है। पानी के बिना कोई भी प्राणी जीवित नहीं रह सकता; न ही पानी के बिना पौधे उग सकते हैं। वैसे तो हमारी पृथ्वी के 70 प्रतिशत भाग पर जल है। गहरे समुद्र पानी से भरे हुए हैं, परंतु समुद्र के पानी को उपयोग में नहीं लाया जा सकता। इस पानी से न तो खेतों की सिंचाई होती है और न ही प्यास बुझती है, क्योंकि समुद्र का पानी खारा होता है। हमें ईश्वर ने अथाह जल-संपत्ति दी है, जो हमें सागरों, नदियों, झरनों, तालाबों, कुओं और वर्षा से प्राप्त होती है।

प्रश्न 1. पानी के बिना क्या होगा?

.....

प्रश्न 2. पृथ्वी के कितने प्रतिशत भाग पर जल है?

.....


प्रश्न 3. समुद्र के पानी को क्यों उपयोग में नहीं लाया जा सकता?

.....

प्रश्न 4. पानी हमें कहाँ से प्राप्त होता है?

14 नीचे दिए गए चित्र को ध्यान से देखिए और लिखिए कि इसमें क्या-क्या हो रहा है?

[Creativity and Application]



(क) सूरज

। (निकल)

(ख) आइसक्रीम वाला आइसक्रीम

। (बेच)

(ग) अंकुर आइसक्रीम

। (खरीद)

(घ) मान्या जूस

। (पी)

(ङ) राहुल पेड़ के नीचे


। (खड़ा)

15. नीचे दिए गए चित्रों को देखते हुए इसका वर्णन
6-7 पंक्तियों में करो :


(I)



(II)



16. अपने दादाजी / दादीजी / नानाजी / नानीजी का चित्र चिपका कर उनकी दिनचर्या के बारे में लिखिए।



17. इस बार आप अपनी गर्मियों की छुट्टियों में कहाँ घूमने के लिए गए? आपने वहाँ पर क्या-क्या देखा? चित्र चिपका इसका वर्णन कीजिए।

18. शब्दों को सही क्रम में लगाकर वाक्य बनाइए।

(क) माँ बना हैं खाना रही।

(ख) है सुबह से खेल रहा रमन।

(ग) अच्छी है प्रतिदिन आदत समाचार-पत्र पढ़ना।

(घ) सूरज निकलता है पूर्व से।

1 Learn ਕਵਿਤਾ ਪਾਠ-4 ਨਿੱਕੇ ਨਿੱਕੇ ਹੱਥ ਅਸਾਡੇ ।

2 Do these worksheets on loose sheets

3 ਕੰਨਾ, ਸਿਹਾਰੀ, ਬਿਹਾਰੀ, ਐਂਕੜ, ਦੁਲੈਂਕੜ ਦੀ ਮਾਤਰਾ ਦੇ ਕੋਈ ਦਸ ਸ਼ਬਦ ਲਿਖੋ

ਪਹਿਲਾਂ ਕਿਹੜਾ ਅੱਖਰ ਆਉਂਦਾ ਹੈ?

ੳ) _____ ਸ ਅ) _____ ਵ ਏ) _____ ਰ ਸ) _____ ਡ

ਦਿੱਤੇ ਅੱਖਰ ਤੋਂ ਬਾਅਦ ਕਿਹੜਾ ਅੱਖਰ ਆਉਂਦਾ ਹੈ?

ੳ) ਜ _____ ਅ) ਛ _____ ਏ) ਝ _____ ਸ) ਞ _____

ਸਮਝੋ ਅਤੇ ਕਰੋ।

ਤ + ਰ = ਤਰ

ੳ) ਡ + ਰ = _____ ਅ) ਘ + ਡ = _____ ਏ) ਧ + ਨ = _____

ਸੁੱਧ ਸ਼ਬਦ ਚੁਣੋ।

ਕਾਂ - ਕੰ

ਕੁੱਤਾ - ਕੁੰਤਾ

ਅੱਖ - ਅੰਖ

ਮੱਝ - ਮੱਜ

ਵਰਣਮਾਲਾ ਪੂਰੀ ਕਰੋ।

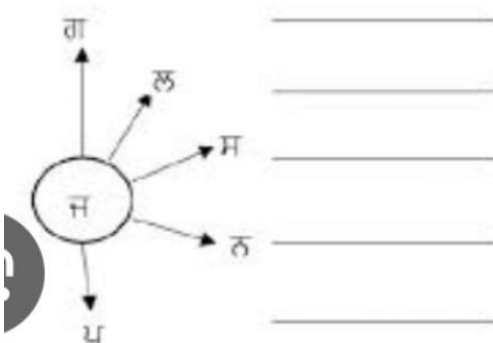
ਕ _____ ਗ _____ ਛ _____

ਤਰਤੀਬ ਅਨੁਸਾਰ ਸਹੀ ਲਿਖੋ।

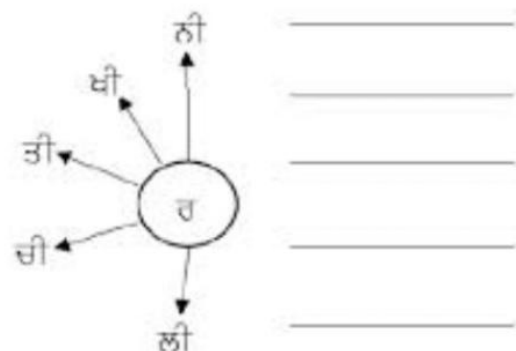
ਨ ਦ ਬ ਧ ਤ _____

ਸ਼ਬਦ ਬਣਾਓ।

ਜਿਵੇਂ: ਜ ਗ = ਜਗ



8. ਸ਼ਬਦ ਬਣਾਓ।



ਸ਼ਬਦ ਬਣਾਓ

ਦਾ

- ਗ
- ਲ
- ਨ
- ਤ
- ਸ

ਦਾਗ



ਹਾ

ਕਾ

ਤਾ

ਚਾ

ਡਾ

ਰ

ਹਾਰ



ਅੱਖਰਾਂ ਤੋਂ ਸ਼ਬਦ ਬਣਾਓ

- ਪ੍ਰਸ਼ਨ - ਗ ਸਾ ਰ ਤੋਂ ਕਿਹੜਾ ਸ਼ਬਦ ਬਣੇਗਾ?
 ਓ) ਰਾਗਸ ਅ) ਸਾਗਰ ਏ) ਗਰੀਸ ਸ) ਗਰਾਸ
- ਪ੍ਰਸ਼ਨ - ਰ ਹਾ ਤੋਂ ਕਿਹੜਾ ਸ਼ਬਦ ਬਣੇਗਾ?
 ਓ) ਹਰਾ ਅ) ਬਲਦ ਏ) ਹਾਰ ਸ) ਹੀਰਾ
- ਪ੍ਰਸ਼ਨ - ਗਾ ਰ ਜ ਤੋਂ ਕਿਹੜਾ ਸ਼ਬਦ ਬਣੇਗਾ?
 ਓ) ਗਰਜ ਅ) ਮਟਰ ਏ) ਗਾਜਰ ਸ) ਗਾਰਜ
- ਪ੍ਰਸ਼ਨ - ਸ਼ ਤ ਰਾ ਰ ਤੋਂ ਕਿਹੜਾ ਸ਼ਬਦ ਬਣੇਗਾ?
 ਓ) ਸ਼ਤਰੰਜ ਅ) ਸਰਾਰਤ ਏ) ਭਰਾਵਟ ਸ) ਦਲਦਲ
- ਪ੍ਰਸ਼ਨ - ਨਾ ਰ ਅ ਤੋਂ ਕਿਹੜਾ ਸ਼ਬਦ ਬਣੇਗਾ?
 ਓ) ਅਨਾਰ ਅ) ਹਾਰਨ ਏ) ਗਾਜਰ ਸ) ਕਟਾਰ
- ਪ੍ਰਸ਼ਨ - ਦਾ ਅ ਰ ਸ ਤੋਂ ਕਿਹੜਾ ਸ਼ਬਦ ਬਣੇਗਾ?
 ਓ) ਸਰਦਾਰ ਅ) ਅਰਦਾਸ ਏ) ਦਰਸ਼ਨ ਸ) ਅਦਰ

1. ਸਿਹਾਰੀ ਮਾਤਰਾ ਵਾਲੇ ਸ਼ਬਦਾਂ 'ਤੇ ਗੋਲਾ ਲਗਾਓ।

ਕਾਰ	ਦਿਨ	ਗਿਟਕ	ਵਾਜਾ	ਸਿਹਤ
ਸਿਰ	ਚਰਖਾ	ਰਿਕਸ਼ਾ	ਜਾਮਣ	ਨਹਿਰ
ਦਾਦਾ	ਕਿਤਾਬ	ਮਿਰਚ	ਦਿਲ	ਕਾਕਾ

2. ਬਿਹਾਰੀ ਮਾਤਰਾ ਵਾਲੇ ਸ਼ਬਦਾਂ 'ਤੇ ਗੋਲਾ ਲਗਾਓ।

ਟਿਫ਼ਨ	ਜੀਪ	ਸੀਟੀ	ਹਿਰਨ	ਮਾਮਾ
ਦੀਵਾ	ਤੀਰ	ਰੀਲ	ਦਿਲ	ਘੜੀ
ਨੀਰ	ਗੀਤ	ਕਿਰਨ	ਮਸ਼ੀਨ	ਕੀਤੀ

3. ਹੇਠਾਂ ਦਿੱਤੀਆਂ ਤਸਵੀਰਾਂ ਵਿੱਚ ਰੰਗ ਭਰੋ ਅਤੇ ਸ਼ਬਦਾਂ ਨੂੰ ਸੁੰਦਰ ਕਰ ਕੇ ਲਿਖੋ।



ਕੁੜਤਾ



ਗੁਬਾਰਾ



ਭਾਲੂ

4. ਸੁੰਦਰ ਲਿਖਾਈ ਵਿੱਚ ਲਿਖੋ।

ਵੀਰ ਖੀਰ ਖਾ।

ਜੀਤੀ ਹਲਦੀ ਲਿਆ।

ਦੀਪੀ ਵਰਦੀ ਪਾ।

5. ਔਂਕੜ ਮਾਤਰਾ ਵਾਲੇ ਸ਼ਬਦਾਂ ਤੇ ਗੋਲਾ ਲਗਾਓ।

ਰਾਤ ਪੁਲ ਚੀਰ ਬੁਣ

6. ਵੱਖਰੀ ਮਾਤਰਾ ਵਾਲਾ ਸ਼ਬਦ ਚੁਣੋ।

ਵੀਰ ਖੀਰ ਸਿਰ ਲੀਰ

EVS

A. Do the following activities on scrap book

- Every country has a national flower. Find the name of the flower of any five countries. Create a table on a scrap book that shows the picture of flowers along with their country.
- All states in India have a state bird. Find the name of your state bird. Also find its eating habits and how it makes its nest. Collect pictures of the bird and paste them on a scrap book. Write a few lines about bird.
- Doctors who specialize in a particular area of medicine or treatment of specific body parts are known as specialists. With the help of internet, find the special names given to the doctors who are specialized in the treatment of given body part
 - Eyes * Nerves
 - Bones * Heart
 - Teeth * skin
 - Ear, nose, throat

4. Go out and closely observe your shadow at least five times in a day (7 am, 10 am, 12 noon, 3pm, 6pm) and click the picture and paste on a scrap book with time. Find when your shadow is shortest and when it is the longest.
5. Collect packages of various food items and paste them on a scrap book. Check the nutrition chart given on the package. List the good items and the nutrients present in them. Classify the food items as healthy or junk food.

B. Tick the correct answer:-

1. Plants make their food by the process of... ..
 - a) Chlorophyll
 - b) photosynthesis
 - c) water
2. Bird have long, thin and curved beak
 - a) Sunbird
 - b) Humming
 - c) both
3. The... .. Pumps blood to all parts of our body.
 - a) Heart
 - b) kidney
 - c) liver
4. The... .. system helps to produce babies
 - a) digestive
 - b) excretory
 - c) reproductive
5. A child may get injured in the playground because of playing... .. games.
 - a) Rough
 - b) correct
 - c) old

C. Fill in the blanks :-

1. The sense of is related with the eyes
2. The sense of is related with the ears.
3. is a non living thing. .
4. Loud sound is... .. for our health.
5. has a short and curved beak.

D. Circle the odd:-

1. Vulture hawk parrot
2. Digestion excretory heart
3. Eyes nose ears legs
4. Chlorophyll oxygen carbondioxide
5. Rice carrot tomato

C.Projects and Models:-

1.Make a model of the solar system. Use balls of different sizes for the planet and place them on a cardboard sheet. Your model should show the correct position of the planet around the sun. Present your model in class. (For Roll no :- 1-5)

2.Make a simple rain gauge. Take help from your book page no – 63 (For roll no - 6-10)

3.Make a simple model of the plant, also mention its parts. For reference you can take help from this video



<https://youtu.be/-RD8BKdiHj0?si=ywRIVQShgcdievf6> (For roll no - 11-15)

4.Make a simple model on formation of day and night. For reference you can take help from this video

☐ https://youtu.be/nt_3YyDEJzg?si=Njbcw8nQgWBogc2p (for roll no - 16-20)

5.Make a simple model of the respiratory system. For reference you can take help from this video ☐

<https://youtu.be/IEWWvGqW694?feature=shared> (For roll no - 21-27)

D. Answer the following questions:-

1. When you eat an apple seed by mistake, does it grow into a plant inside your stomach? Give a reason for your answer.
2. Rohan draws a hummingbird with a broad and flat beak .Mita says that Rohan has drawn the Beak of Hummingbird incorrectly. Do you think Mita is right? Give a reason for your answer.
3. We breathe through our nose ,but sometimes we also take in air through our mouth. Should we breathe through our mouths?Why/Why not give a reason to support your answer.
4. It is night time and your home is very dark. You need to find your favourite, toy but you cannot see it.Why does this happen ? What can you use to light up and find your toy.
5. Draw the diagram of :-
 - I. Germination of seed
 - II. Digestive system
 - III. Excretory systemon your scrap book also colour and label them.

MATHS


Match the following :

Column A

- (a) Seven thousand eight hundred
- (b) Six thousand nine hundred
- (c) Eight thousand two
- (d) Four thousand fifteen
- (e) Nine thousand nine

Column B

- (i) 6900
- (ii) 4015
- (iii) 7800
- (iv) 9009
- (v) 8002



Write the next four numbers by observing the pattern carefully :

- (a) 2389, 2390, 2391, ; ; ;
- (b) 2211, 2212, 2213, ; ; ;
- (c) 4405, 4410, 4415, ; ; ;
- (d) 1178, 1278, 1378, ; ; ;

2. Look at the picture and answer the following questions.

WORKSHEET Skills assessed: Analysing • Drawing • Thinking • Application

Ranjan visited a shop to buy a shirt. He saw different shirts. The shopkeeper showed him prices of a few shirts.



Shirt Color	Price (₹)
White	1496
Light Blue	999
Dark Blue	1196
Light Blue	1565
Dark Blue	985
Light Brown	6601

Can you find out the following?

From the above picture answer the following:

1. What is the price of most expensive shirt?
2. What is the price of cheapest shirt?
3. Subtract the price of most expensive shirt and cheapest shirt
4. Write expanded for every price of shirt.
5. Estimate the price of cheapest shirt nearest to tens place , hundred place and thousand place.

3. Answer the following:

Fill in the blanks using Roman numerals.

1. I celebrate my birthday on of (month).
2. I am years old.
3. I study in class
4. My class has students.

4. Write and learn tables from 2 to 20 .

5.

C. Complete the table.

Number	Successor	Predecessor
2568		
9010		
7461		
8000		
6500		

6.

Do the following as instructed:

Circle all odd numbers and cross all even numbers.

101	102	103	104	105
106	107	108	109	110
111	112	113	114	115
116	117	118	119	120

7.

Estimate the sum of the following nearest to tens and find actual sum also.

a. $78 + 43$

b. $314 + 211$

c. $156 + 342$

8. Estimate the sum of the following nearest to hundreds and find actual sum also.

a. $1347 + 1547$

b. $651 + 143$

c. $1237 + 2341$

9. Do the following worksheet:

$\begin{array}{r} 2,523 \\ - 1,992 \\ \hline \end{array}$	$\begin{array}{r} 3,398 \\ - 2,462 \\ \hline \end{array}$	$\begin{array}{r} 9,403 \\ - 4,327 \\ \hline \end{array}$	$\begin{array}{r} 3,709 \\ - 1,230 \\ \hline \end{array}$
$\begin{array}{r} 2,782 \\ - 1,450 \\ \hline \end{array}$	$\begin{array}{r} 3,340 \\ - 2,236 \\ \hline \end{array}$	$\begin{array}{r} 3,217 \\ - 2,223 \\ \hline \end{array}$	$\begin{array}{r} 3,145 \\ - 1,105 \\ \hline \end{array}$
$\begin{array}{r} 5,638 \\ - 3,214 \\ \hline \end{array}$	$\begin{array}{r} 8,051 \\ - 7,188 \\ \hline \end{array}$	$\begin{array}{r} 9,844 \\ - 3,924 \\ \hline \end{array}$	$\begin{array}{r} 5,694 \\ - 2,822 \\ \hline \end{array}$